



اختبار متعدد التخصصات 1

الصف الثاني الإعدادي

شهر مارس

اللغة العربية

٨٠ درجات



(أ) من موضوع «الكنز.. قبل أن يضيع»:

« إن للوقت مفاهيم متعددة ومتباينة، تداولتها الأجيال المتعاقبة عبر السنين والعصور، واختلفت في تفسيرها العقول بحسب أهداف كل جيل ومشاربه، ولكن اتفق الجميع على أهميته، وعلى أنه الكنز الذي إذا قدره الإنسان، وعرف كيف يستخدمه، استطاع أن يملك كل شيء».

- ١ معنى «تداولتها»:
- ٢ مفرد «مشاربه»:
- ٣ اختلفت الأجيال في:
- ٤ (استغلال الوقت - معرفة قيمة الوقت - تفسير مفهوم الوقت - تضييع الوقت)
- ٥ معلم اللغة العربية أكثر المدرسين إخلاصًا. التمييز في الجملة: (إخلاصًا - أكثر - المدرسين - العربية)
- ٥ أصدر..... صحيفة «اللواء». (مصطفى كامل - أحمد عرابي - محمد فريد - الخديو توفيق)

(ب) من نص «الخلق .. كنز لا يفنى»:

« الخلق هو شعور المرء بأنه مسئول أمام ضميره عما يجب أن يفعل، لذلك لا أسمى الكريم كريمًا حتى تستوى عنده صدقة السرو صدقة العلانية».

- ٦ معنى «المرء»:
- ٧ الخلق من وجهة نظر الكاتب هنا هو:
- ٨ «السر - العلانية» بينهما:
- ٩ اشترى أبي «١٢» قصة:
- ١٠ سلم..... القلعة إلى الإنجليز. (أحمد عرابي - أمين أغا - خورشيد باشا - خنفس)

Choose the correct answer from a, b, c or d:

1 My elder brother can from Arabic into English well.

a) invent

b) find

c) push

d) translate

2 Waleed, your books on the desk.

a) to put

b) put

c) putting

d) puts

3 To be healthy, you should eat fruits.

a) old

b) bad

c) fresh

d) horrible

4 You eat some fruit or vegetables every day.

a) do

b) don't

c) shouldn't

d) should

5 My mother's food delicious. I like it very much.

a) tastes

b) feels

c) hears

d) touches

6 There are shops near my house.

a) a

b) a little

c) a few

d) much

- اختر الإجابة الصحيحة مما بين (أ - ب - ج - د):

- ١ من العوامل البشرية لقيام الزراعة في الوطن العربي
- (أ) السوق (ب) التربة الخصبة
(ج) الأمطار (د) المناخ
- ٢ تعرف ظاهرة تناقص قدرة الأرض على الإنتاج الزراعي بظاهرة
- (أ) الرعي الجائر (ب) التصحر
(ج) الخصوبة (د) التذبذب
- ٣ من المحاصيل الصناعية والتجارية في الوطن العربي
- (أ) القمح (ب) القطن
(ج) الأرز (د) الموالح
- ٤ انتصر المعتصم على الروم وفتح مدينة
- (أ) بغداد (ب) البصرة
(ج) الكوفة (د) عمورية
- ٥ أمر الخليفة
- (أ) معاوية بن أبي سفيان بتنقيط المصحف.
(ب) الوليد بن عبد الملك
(ج) عبد الملك بن مروان
(د) عمر بن عبد العزيز

اختر الإجابة الصحيحة:

١ عددان حاصل ضربهما ١٢ ومجموعهما ٨ هما

- (١) ٤، ٣ - (ب) ٦، ٢ - (ج) ٦، ٢ - (د) ٤، ٣ -

٢ مثلث مساحة سطحه ٢٤ سم^٢ وارتفاعه ٨ سم فإن طول قاعدته المناظرة لهذا الارتفاع بالسم =

- (١) ١٦ (ب) ٦ (ج) ٣ (د) ٢

٣ إذا كان (س - ١) أحد عوامل المقدار س^٢ + ٥س - ٦ فإن العامل الآخر هو

- (١) س - ٦ (ب) س + ٦ (ج) س - ٥ (د) س - ٣

٤ متوازي أضلاع مساحته ٢٧ سم^٢، طول قاعدته يساوي ثلاثة أمثال ارتفاعه المناظر لهذه القاعدة، فإن طول ارتفاعه

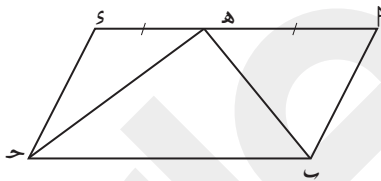
المناظر لهذه القاعدة = سم

- (١) ٢٧ (ب) ٩ (ج) ٣ (د) ٦

٥ إذا كان س^٢ + ١٤س + ٤٩ مربعاً كاملاً فإن ب =

- (١) ٢ (ب) ٧ (ج) ١٤ (د) ٤٩

٦ في الشكل المقابل: P ب ح s متوازي أضلاع



هـ منتصف P س وإذا كانت م المثلث P ب هـ = ٥٠ سم^٢

فإن مساحة سطح متوازي الأضلاع P ب ح s = سم^٢

- (١) ٥٠ (ب) ١٠٠ (ج) ٢٥ (د) ٢٠٠

٧ إذا كان P س + P ب + س = ٣٥، P ب + س = ٥ فإن س + ص =

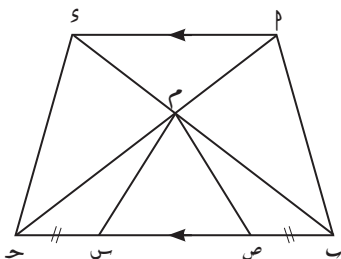
- (١) ٣٠ (ب) ٧ (ج) ٥ (د) ٧ -

٨ في الشكل المقابل: P س // ب ح، ب س = ح ص

فإن مساحة الشكل P م س ب = مساحة الشكل

- (١) P ب ح س (ب) م س ح س

- (ج) P ب ص م (د) S م ص ح



- اخترا الإجابة الصحيحة:

- ١ جسم مهتز يحدث ١٠ اهتزازات في كل ثانية يكون زمنه الدوري
- (أ) ٠,١ ث (ب) ٠,٥ ث
(ج) ٠,٠١ ث (د) ٠,٠٥ ث
- ٢ تعتبر حركة بندول ساعة الحائط
- (أ) دورية (ب) اهتزازية
(ج) موجية (د) دورية اهتزازية
- ٣ إذا كان جسم مهتز يصنع ٤٠ إزاحة متتالية في الثانية الواحدة فإن زمنه الدوري =
- (أ) ٠,٠٥ ث (ب) ٠,٢ ث
(ج) ٠,١ ث (د) ٥ ث
- ٤ الكيلو هيرتز = هيرتز.
- (أ) $10^{-1} \times 1$ (ب) $10^3 \times 1$
(ج) $10^1 \times 1$ (د) $10^{-3} \times 1$
- ٥ حاصل ضرب تردد الموجة في طولها الموجي يساوي
- (أ) الزمن الدوري (ب) سعة الاهتزاز
(ج) سرعة الموجة (د) الاهتزازة الكاملة
- ٦ تعتبر موجات الصوت موجات
- (أ) ميكانيكية طولية (ب) ميكانيكية مستعرضة
(ج) كهرومغناطيسية طولية (د) كهرومغناطيسية مستعرضة

Choose the correct answer:

- 1 For the expression $x^2 - x - k$ can be factorized, then $k \neq$
 - a) 12
 - b) 6
 - c) 30
 - d) 8
- 2 If the expression $x^2 + 14x + b$ is a perfect square, then $b =$
 - a) 49
 - b) 2
 - c) 14
 - d) 7
- 3 If $x^2 + l - 4 = (x + 2)(x - 2)$, then $l =$
 - a) zero
 - b) 2
 - c) 8
 - d) 4
- 4 $x^2 + k = (x - 4)(x + 4)$, then $k =$
 - a) 16
 - b) -16
 - c) ± 16
 - d) -4
- 5 The ratio between the area of the parallelogram and the area of the triangle whose bases are common and are included between two parallel straight lines one of them carrying the base =
 - a) 2 : 3
 - b) 1 : 2
 - c) 1 : 3
 - d) 2 : 1
- 6 A parallelogram in which the lengths of two adjacent sides are 12 cm and 9 cm, length of its long height is 8 cm, then the length of its short height is
 - a) 15 cm
 - b) 12 cm
 - c) 4 cm
 - d) 6 cm
- 7 The area of the parallelogram ABCD is 30 cm^2 , $E \in \overline{CD}$, then the area of triangle ABE equals
 - a) 12 cm^2
 - b) 4 cm^2
 - c) 60 cm^2
 - d) 15 cm^2
- 8 A triangle of area 30 cm^2 its base length is 10 cm then the length of its corresponding height is
 - a) 3 cm
 - b) 6 cm
 - c) 5 cm
 - d) 20 cm

Choose the correct answer:

- 1 The oscillating body moves at the two sides of its original position, so its velocity
- a. decreases when it goes far from its original position
b. increases when it goes far from its original position
c. will reach its maximum value when it passes through its original position
d. (a) and (c)
- 2 If the periodic time of an oscillating body is 0.1 sec., then the number of complete oscillations in one minute is
- a. 10 b. 60 c. 120 d. 600
- 3 If the time of amplitude of an oscillating body is doubled, then the time of complete oscillation increases to
- a. double b. 3 times c. 2 times d. 5 times
- 4 Wave is the disturbance that propagates and transfers energy in
- a. the direction of propagation b. a direction opposite to that of propagation
c. a direction perpendicular to that of propagation
d. No correct answer.
- 5 If the distance between the center of the third rarefaction and the center of the fifth rarefaction on the wave propagation is 20 cm, then the wavelength of this wave is
- a. 40 cm b. 10 cm c. 5 cm d. 5 times
- 6 The double of the horizontal distance between a crest and a trough of a transverse wave is known as
- a. amplitude b. wave velocity c. wavelength d. All the previous



اختبار متعدد التخصصات

الصف الثاني الإعدادي

شهر مارس

اللغة العربية

٨٠ درجات



(أ) من موضوع «الكنز.. قبل أن يضيع»:

وسألهم: «ما الفكرة من هذه التجربة من وجهة نظركم؟» أجاب أحد الطلبة بحماس: «إنه مهما كان جدول المرء مليئًا بالأعمال، فإنه يستطيع عمل المزيد والمزيد بالجهد والاجتهاد».

١ معنى «يستطيع»:

(يحاول - يرغب - يهوى - يقدر)

٢ السائل حسب الدرس:

(ناظر المدرسة - مدرس الجغرافيا - أستاذ جامعي - مديركلية إدارة الأعمال)

٣ الصخور الكبيرة في التجربة هي:

(المشاكل - الصعوبات - الأفكار - الأهداف الكبرى)

٤ قرأت ثلاثة عشر:

(قصة - كتابًا - كتبًا - قصصًا)

٥ استغل حادثة دنشواي للتبديد بجرائمها. (أحمد عرابي - مصطفى كامل - محمد فريد - اللورد كرومر)

(ب) من نص «الخلق .. كنز لا يفنى»:

«لا ينفع المرء أن يكون زاجره عن الشر خوفه من عذاب النار، أو خوفه من القانون، وإنما ينفعه أن يكون ضميره قائده

الذي يهتدى به ومناره الذي يستنير بنوره في طريق حياته».

٦ معنى «زاجره»:

(معاقبة - محفزه - مانعه - الأولى والثالثة)

٧ الذي ينفع الإنسان من وجهة نظر الكاتب:

(وازعه الداخلي - حرصه على المال - خوفه من القانون - اعتماده على الآخرين)

٨ «إنما ينفعه» أسلوب:

(نداء - أمر - قصر - نهى)

٩ طاب أخي نفسًا. «نفسًا»:

(تمييز - حال - مفعول به - نعت)

١٠ وقعت مسئولية حادثة دنشواي على:

(أهل دنشواي - نابليون - كتلى - اللورد كرومر)



Choose the correct answer from a, b, c or d:

- 1 You should eat healthy
- a) snakes
 - b) snacks
 - c) spikes
 - d) sneaks
- 2 If I go to the shops on Saturday, I some new headphones.
- a) buy
 - b) bought
 - c) am buying
 - d) will buy
- 3 Most young people are to using the internet. They use it too much.
- a) comfortable
 - b) busy
 - c) addicted
 - d) happy
- 4 I'm hot and thirsty. I a cold drink, please.
- a) 'd like
 - b) 'd like to
 - c) like
 - d) like to
- 5 Scientists use solar to make electricity.
- a) towers
 - b) roads
 - c) tunnels
 - d) panels
- 6 Don't the birds. I've fed them already.
- a) feed
 - b) fed
 - c) feeds
 - d) feeding

- اختر الإجابة الصحيحة مما بين (أ - ب - ج - د):

- ١ يتذبذب الإنتاج الزراعى فى الوطن العربى بسبب اعتماد الزراعة على
- (أ) الأمطار (ب) الأنهار
(ج) تحلية مياه الآبار (د) تحلية مياه البحر
- ٢ أولى دول الوطن العربى إنتاجاً للموايح دولة
- (أ) المغرب (ب) مصر
(ج) فلسطين (د) الإمارات
- ٣ ثامن الخلفاء الأمويين وعرف بالخليفة الزاهد
- (أ) معاوية بن أبى سفيان (ب) عبد الملك بن مروان
(ج) الوليد بن عبد الملك (د) عمر بن عبد العزيز
- ٤ أنشأ جوهرا الصقلى لتكون عاصمة مصر.
- (أ) الفسطاط (ب) القاهرة
(ج) القطائع (د) العسكر
- ٥ استمرت الخلافة العباسية قرابة قرون.
- (أ) خمسة (ب) ستة
(ج) سبعة (د) ثمانية

اختر الإجابة الصحيحة:

١ إذا كان المقدار $s^2 + k + s + 2$ قابلاً للتحليل فإن $k =$

- (أ) ١ (ب) ٢ (ج) ٣ (د) ٤

٢ مثلث مساحة سطحه تساوي ٢٥ سم^٢ فإذا كانت طول قاعدته نصف ارتفاعه ، فإن ارتفاعه = سم

- (أ) ١٠ (ب) ٢٠ (ج) ٥ (د) ٢٥

٣ إذا كان $s^2 + 2 + 2 + 2 = 25$ فإن $s + 2 =$

- (أ) ٥ (ب) ٥- (ج) $5 \pm$ (د) ١٢,٥

٤ متوازي أضلاع طولاه ضلعين متجاورين فيه ٤ سم ، ٩ سم وارتفاعه الأصغر ٨ سم فإن ارتفاعه الأكبر = سم

- (أ) ٣٢ (ب) ٧٢ (ج) ١٨ (د) ٩

٥ إذا كان $s^2 + k - 4 = (s + 2)(s - 2)$ فإن $k =$

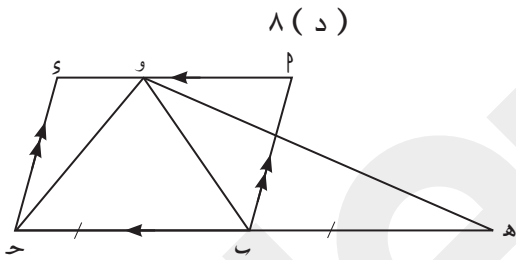
- (أ) صفر (ب) ٢ (ج) ٤ (د) ٨

٦ في الشكل المقابل : $P \parallel s$ متوازي أضلاع

$h \parallel b$ ، و $s \parallel P$ ، $b = h$

فإن مساحة متوازي الاضلاع $P \parallel s$ = مساحة المثلث

- (أ) $b \parallel h$ (ب) $h \parallel b$ (ج) $h \parallel b$ (د) $P \parallel b$ و



٧ إذا كان $5 = s + 2$ ، $4 = s + 2 + 2 + 2 + s$ فإن $s =$

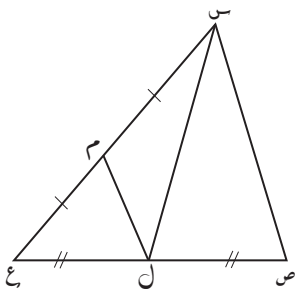
- (أ) ٩ (ب) ٢٠ (ج) ٢٥ (د) ٣٠

٨ في الشكل المقابل : l منتصف $صع$ ، m منتصف $سع$

فإن مساحة المثلث $س ص ع$ = مساحة المثلث $ع ل م$

- (أ) ٢ (ب) ٤

- (ج) $\frac{1}{2}$ (د) $\frac{1}{4}$



- اخترا الإجابة الصحيحة:

- ١ سعة الاهتزاز تعادل اهتزازة كاملة .
- (١) ضعف
(ب) ربع
(ج) نصف
(د) أربعة أمثال
- ٢ النسبة بين زمن سعة الاهتزاز وزمن الاهتزازة الكاملة
- (١) ٢ : ١
(ب) ١ : ٢
(ج) ٤ : ١
(د) ١ : ٤
- ٣ جسم تردده ٢ هيرتز يكون زمنه الدوري ث .
- (١) ٠,٢٥
(ب) ٠,٥
(ج) ٠,٧٥
(د) ١
- ٤ إذا كان تردد جسم ٥ هيرتز فإن حاصل ضرب تردده في زمنه الدوري يساوى
- (١) ١
(ب) ٥
(ج) ١٠
(د) ٢٥
- ٥ تسمى المسافة بين أى قمتين متتاليتين أو قاعين متتاليين باسم
- (١) سعة الموجة
(ب) التردد
(ج) الطول الموجي
(د) الزمن الدوري
- ٦ إذا كانت المسافة الرأسية بين قمة وقاع موجة ١٠ سم فإن سعة هذه الموجة = سم .
- (١) ٥
(ب) ١٠
(ج) ٢٠
(د) ١٠٠

Choose the correct answer:

- 1 If the expression $x^2 + bx - 10$ can be factorized, then b may be

a) 1	b) 2
c) 3	d) -1
- 2 If the expression $x^2 + kx + 25$ is a perfect square, then a =

a) ± 5	b) 5
c) ± 10	d) 10
- 3 If $x^2 - a = (x + 3)(x - 3)$, then a =

a) -3	b) 3
c) 9	d) -9
- 4 $x^2 + kx - 40 = (x - 8)(x + 5)$, then k =

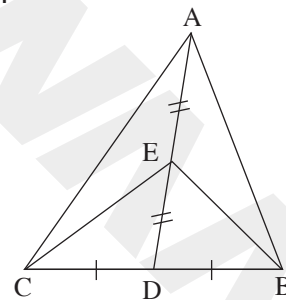
a) 13	b) -13
c) 3	d) -3
- 5 The area of the triangle is the area of the parallelogram which has a common base with it and its vertex lies on the straight line parallel to this base.

a) half	b) equal to
c) twice	d) quarter
- 6 **In the opposite figure:**
 If the area of the triangle ABC = 100 cm^2 ,
 then the area of the triangle
 EBD = cm^2 .

a) 16	b) 8
c) 25	d) 18
- 7 The median of the triangle divides its surface into two triangles

a) congruent	b) equal in area
c) similar	d) different in areas
- 8 If the side lengths of a parallelogram are 4 and 6 cm, and the smaller height is 6 cm, then the other height = cm.

a) 8	b) 6
c) 4	d) 9



Choose the correct answer:

- 1 All of the following are examples of oscillatory motion except
 - a. motion of string
 - b. motion of tuning fork
 - c. motion of car
 - d. motion of a simple pendulum

- 2 The frequency of an oscillating body in megahertz, if its periodic time is 0.2 seconds is
 - a. 2×10^{-6} Megahertz
 - b. 5×10^{-6} Megahertz
 - c. 2×10^{-3} Megahertz
 - d. 5×10^{-3} Megahertz

- 3 The ratio between the time of amplitude to the time of complete oscillation equals..... .
 - a. 1:2
 - b. 2:1
 - c. 1:4
 - d. 4:1

- 4 The compression in the longitudinal wave is equivalent to
 - a. trough in the transverse wave
 - b. crest in the transverse wave
 - c. crest in the longitudinal wave
 - d. no correct answer

- 5 All of the following are electromagnetic waves except
 - a. light
 - b. sound
 - c. radio
 - d. (a) and (c)

- 6 The distance between the centers of the second and fourth compressions is
 - a. the wavelength of longitudinal wave
 - b. double the wavelength of longitudinal wave
 - c. four times the wavelength of longitudinal wave
 - d. all the previous



اختبار متعدد التخصصات

الصف الثاني الإعدادى

شهر مارس

اللغة العربية

٨٠ درجات



(أ) من موضوع «الكنز.. قبل أن يضيع»:

« فهذا المثال يُعلمنا أنه لو لم نضع الصخور الكبيرة أولاً ما كان بإمكاننا وضعها أبداً ». ثم قال: « قد يتساءل البعض: وما الصخور الكبيرة؟ ».

١ المراد بـ «أبداً»: (مؤخراً - حالاً - لاحقاً - نهائياً)

٢ فى هذا الدرس كان الطلاب: (سليبين - متفاعلين - مشاغبين - غافلين)

٣ الهدف من التجربة من وجهة نظر الطالب:

(تحديد الأهداف - الانتباه للمعلم - ضرورة الاجتهاد - الاستفادة المثلى من الوقت)

٤ يتكون فريق كرة القدم من: (أحد عشرة لاعباً - إحدى عشر لاعبة - أحد عشر لاعباً - إحدى عشرة لاعباً)

٥ احتلت إنجلترا مصر عام: (١٨٨٠ - ١٨٨٢ - ١٨٨١ - ١٨٠٧)

(ب) من نص «الفلاح»:

أنا الفلاح فى مصرأ أرد ترابها تبرأ

فلا تبقى يدى قفرا بواديهأ ولا فقرا

٦ المراد بـ «قفرا»: (الفضاء - الأرض الخالية - الأرض العامرة - الجبال)

٧ جمع «يد»: (يدين - يْدَى - أيد - الثانية والثالثة)

٨ تنكير «تبرأ» أفاد: (التصغير - التقليل - الكثرة - التعظيم)

٩ أعطانى أبى «ألف»: (جنيهاً - جنيهاً - جنيهاً - جنيهاً)

١٠ نفى الإنجليز إلى جزيرة سيشل. (مصطفى كامل - محمد فريد - أحمد عرابى - سعد زغلول)

Choose the correct answer from a, b, c or d:

1 I have many on my mobile phone that help me with my study.

- a) machines b) icons
c) apps d) tabs

2 You should ask the teacher to help you if you the lesson.

- a) understand b) don't understand
c) will understand d) won't understand

3 A healthy person should have a/an diet to stay healthy.

- a) balanced b) normal
c) unusual d) unhealthy

4 If you want to get to the park quickly, you the bus.

- a) will take b) take
c) should take d) took

5 I like to use my to listen to music on my mobile phone.

- a) charger b) headphones
c) laptop d) microphones

6 Hurry up! We only have a time before the bus leaves.

- a) lot of b) little
c) few d) much

الدراسات الاجتماعية

٤٠
درجة

- اختر الإجابة الصحيحة مما بين (أ - ب - ج - د):

- ١ من الحبوب الغذائية في الوطن العربي
(أ) التمر
(ب) القطن
(ج) القمح
(د) البن
- ٢ تعتمد الزراعة في الأجزاء الشمالية للوطن العربي على
(أ) المياه الجوفية
(ب) الأنهار
(ج) تحلية المياه
(د) الأمطار
- ٣ استعان الوزير ضرغام ب..... في صراعه مع شاور.
(أ) الأيوبيين
(ب) الصليبيين
(ج) الفاطميين
(د) الطولونيين
- ٤ تم بناء مدينة سامراء في عهد الخليفة
(أ) المعتصم
(ب) المأمون
(ج) هارون الرشيد
(د) الأمين
- ٥ عرف العام الذي تنازل فيه الحسن بن علي عن الخلافة لمعاوية بعام
(أ) الفيل
(ب) الوفود
(ج) الجماعة
(د) الحزن

اختر الإجابة الصحيحة:

١ $(٦س - ١١س - ١٠) = (٥س - ٢س) (٣س + \dots)$

(١) ٢ (ب) ٥ (ج) ٢ - (د) ٥ -

٢ إذا كان مثلث مساحته ١٠ سم^٢ والنسبة بين طول قاعدته وارتفاعه ١ : ٥ فإن ارتفاعه = سم

(١) ١٠ (ب) ٢ (ج) ٤ (د) ٥

٣ العدد الذي يمكن إضافته للمقدار الثلاثي س^٢ - ٨س + ٥ حتى يكون قابلاً للتحليل هو

(١) ١ (ب) ٢ (ج) ٤ (د) ٥

٤ مساحة المثلث = مساحة متوازي الأضلاع المشترك معه في القاعدة والمحصور معه بين مستقيمين متوازيين

أحدهما يحمل هذه القاعدة المشتركة

(١) نصف (ب) ضعف (ج) ربع (د) ثلث

٥ إذا كان س^٢ - ١٦س + ص = ٨ فإن قيمة س - ص =

(١) ٥ (ب) ٤ (ج) ٢ (د) ١٢

٦ عدد محاور تماثل المثلث المتساوي الساقين

(١) ١ (ب) ٢ (ج) ٣ (د) صفر

٧ إذا كانت س^٢ + ٢س + ص = ٢٥ ، س^٢ - س + ص = ٧ فإن س^٣ + ص^٣ =

(١) ٣٥ ± (ب) ١٢ (ج) ٥٢ (د) ٧

٨ متوازي الأضلاع الذي فيه طولاً ضلعين متجاورين ٤ سم ، ٦ سم وارتفاعه الأكبر = ٣ سم فإن ارتفاعه الأصغر = سم

(١) ٢ (ب) ١٢ (ج) ٤ (د) ١٦

- اختر الإجابة الصحيحة:

- ١ عدد الاهتزازات الكاملة التي يحدثها الجسم المهتز في الثانية الواحدة يسمى
 (أ) سعة الاهتزازة
 (ب) التردد
 (ج) الاهتزازة الكاملة
 (د) الزمن الدوري
- ٢ حاصل ضرب تردد الجسم المهتز في الزمن الدوري الواحد الصحيح.
 (أ) أكبر من
 (ب) أقل من
 (ج) يساوي
 (د) ضعف
- ٣ سرعة كرة البندول البسيط كلما ابتعدنا عن موضع سكونه.
 (أ) تقل
 (ب) تزداد
 (ج) لا تتأثر
 (د) تتضاعف
- ٤ موجة تقطع مسافة ٣٠ مترًا في ٣ ثوانٍ فإذا كان طول هذه الموجة ٥ أمتار يكون تردد هذه الموجة = هيرتز.
 (أ) ٢
 (ب) ٥
 (ج) ٥٠
 (د) ٥
- ٥ إذا كانت المسافة بين مركز التضاغط الثالث ومركز التضاغط الخامس عند انتشار موجة ٢٠ سم فإن الطول الموجي =
 (أ) ٤٠ سم
 (ب) ٢٠ سم
 (ج) ١٠ سم
 (د) ٥ سم
- ٦ أمواج الماء عبارة عن أمواج
 (أ) ميكانيكية طولية
 (ب) ميكانيكية مستعرضة
 (ج) كهرومغناطيسية طولية
 (د) كهرومغناطيسية مستعرضة

Choose the correct answer:

1 If the expression $x^2 + ax + 2$ can be factorized, then a may be

- a) 1
- b) 2
- c) 3
- d) 4

2 If the expression $cx^2 + 10x + 1$ is a perfect square, then $c =$

- a) 25
- b) 5
- c) 10
- d) 9

3 If $x^2 - y^2 = 24$, $x + y = 8$, then $3x - 3y =$

- a) 16
- b) 3
- c) 9
- d) $\frac{1}{3}$

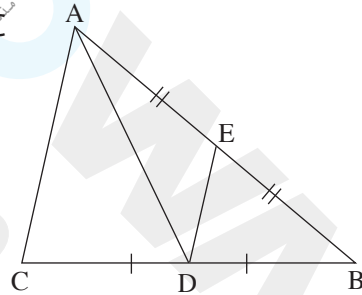
4 $x + y = 3$, $x^2 - xy + y^2 = 5$, then $x^3 + y^3 =$

- a) -15
- b) 15
- c) 8
- d) -8

5 In the opposite figure:

The area of $\triangle ADE =$ the area of $\triangle ABC$

- a) $\frac{1}{2}$
- b) $\frac{1}{8}$
- c) $\frac{1}{3}$
- d) $\frac{1}{4}$



6 If the length of two adjacent sides of a parallelogram is 6 cm and 7 cm, then the length of its longest height is 5 cm, then its area is cm^2 .

- a) 30
- b) 35
- c) 42
- d) 49

7 The two triangles which are equal in area and drawn on the same base and on the same side of it, their vertices lie on a straight line that the base.

- a) is perpendicular to
- b) bisects
- c) is parallel to
- d) none of the above answers

8 The triangle XYZ in which $L \in \overline{YZ}$ such that $YL = \frac{1}{2} YZ$, then the area of triangle XYZ = the area of triangle XYL.

- a) equal
- b) quarter
- c) half
- d) twice

Choose the correct answer:

- 1 The result of multiplying the frequency of an oscillating body by its periodic time equals
- a. 2
b. 5
c. 4
d. 1
- 2 The periodic time of an oscillating body which makes 240 oscillations in one minute equals
- a. 1 sec
b. 0.25 sec
c. 0.5 sec
d. 4 sec
- 3 The simple harmonic motion is an example of the motion.
- a. oscillatory
b. periodic
c. transitional
d. (b) and (c)
- 4 All of the following are transverse waves except waves.
- a. water
b. light
c. sound
d. (a) and (c)
- 5 The distance that is covered by the wave in one second is called
- a. wavelength
b. frequency
c. wave velocity
d. no correct answer
- 6 The highest point of the particles of the medium in the transverse waves is known as
- a. crest
b. compression
c. trough
d. all the previous



الزمن:
ساعتان

1 إجابة اختبار متعدد التخصصات

الصف الثاني الإعدادي

شهر مارس

اللغة العربية

٨٠
درجات



www.Cryp2Day.com

موقع مذكرات جاهزة للطباعة

١- تناقلتها.

٢- مشربه.

٣- تفسير مفهوم الوقت.

٤- إخلاصًا.

٥- مصطفى كامل.

٦- الرجل.

٧- المسؤولية أمام الضمير.

٨- تضاد.

٩- اثنتي عشرة.

١٠- خنفس.

Choose the correct answer from a, b, c or d:

1 d) translate

2 b) put

3 c) fresh

4 d) should

5 a) tastes

6 c) a few

الدراسات الاجتماعية

٤٠
درجة

- ١ (أ) السوق .
- ٢ (ب) التصحر .
- ٣ (ب) القطن .
- ٤ (د) عمورية .
- ٥ (ج) عبد الملك بن مروان .

موقع مذكرات جاهزة للطباعة

الرياضيات ^{٦٠}درجة

إجابة النموذج الأول من شهر مارس

١ - ٢، ٦

٢ ٦

٣ (٦ + ٣)

٤ ٣

٥ ٤٩

٦ ٢٠٠

٧ ٧

٨ ٥ م ص ح

١ (١)

٢ (د)

٣ (ج)

٤ (ب)

٥ (ج)

٦ (١)

موقع مذكرات جاهزة للطباعة

MODEL ANSWER:

- 1 8
- 2 49
- 3 zero
- 4 -16
- 5 2 : 1
- 6 6
- 7 15 cm²
- 8 6 cm

- 1 d
- 2 d
- 3 a
- 4 a
- 5 b
- 6 c



www.Gem.com
موقع مذكرات جاهزة للطباعة



الزمن:
ساعتان

إجابة اختبار متعدد التخصصات

الصف الثاني الإعدادي

شهر مارس

اللغة العربية

٨٠
درجات



www.Cryp2Day.com

موقع مذكرات جاهزة للطباعة

١- يقدر.

٢- أستاذ جامعي.

٣- الأهداف الكبرى.

٤- كتابًا.

٥- مصطفى كامل.

٦- مانعه.

٧- وازعه الداخلي.

٨- قصر.

٩- تمييز.

١٠- اللورد كرومر.

Choose the correct answer from a, b, c or d:

1 b) snacks

2 d) will buy

3 c) addicted

4 a) 'd like

5 d) panels

6 a) feed

الدراسات الاجتماعية

٤٠
درجة

١ (١) الأمطار.

٢ (ج) فلسطين.

٣ (د) عمر بن عبد العزيز.

٤ (ب) القاهرة.

٥ (١) خمسة.

موقع مذكرات جاهزة للطباعة

درجة الرياضيات

إجابة النموذج الثاني من شهر مارس

٣ ١

١٠ ٢

٥± ٣

١٨ ٤

صفر ٥

٥ و ٦ ح

٢٠ ٧

٤ ٨

١ (ب)

٢ (ج)

٣ (ب)

٤ (أ)

٥ (ج)

٦ (أ)



MODEL ANSWER:

- 1 3
- 2 ± 10
- 3 9
- 4 -3
- 5 half
- 6 25
- 7 equal in area
- 8 9

- 1 c
- 2 b
- 3 c
- 4 b
- 5 b
- 6 b



إجابة اختبار متعدد التخصصات

الصف الثاني الإعدادي

شهر مارس

اللغة العربية

٨٠ درجات



١- نهائياً.

٢- متفاعلين.

٣- الإفادة المثلث من الوقت.

٤- أحد عشر لاعباً.

٥- ١٨٨٢.

٦- الأرض الخالية.

٧- الثانية والثالثة.

٨- التعظيم.

٩- جنيه.

١٠- سعد زغلول.

Choose the correct answer from a, b, c or d:

- 1 c) apps
- 2 b) don't understand
- 3 a) balanced
- 4 c) should take
- 5 b) headphones
- 6 b) little

الدراسات الاجتماعية

٤٠
درجة

- ١ (ج) القمح.
- ٢ (د) الأمطار.
- ٣ (ب) الصليبيين.
- ٤ (أ) المعتصم.
- ٥ (ج) الجماعة.

موقع مذكرات جاهزة للطباعة

درجة الرياضيات

إجابة النموذج الثالث من شهر مارس

- ٢ ١
- ١٠ ٢
- ٢ ٣
- نصف ٤
- ٢ ٥
- ١ ٦
- ٣٥ ± ٧
- ٢ ٨

١ (ب)

٢ (ج)

٣ (أ)

٤ (أ)

٥ (ج)

٦ (ب)



MODEL ANSWER:

- 1 3
- 2 25
- 3 9
- 4 15
- 5 $\frac{1}{4}$
- 6 30
- 7 is parallel to
- 8 twice

- 1 d
- 2 b
- 3 a
- 4 c
- 5 c
- 6 a